



期間限定 大放出！！ 秘蔵の地理プリント

氏名

語句	説明
	日本三名園の一つで茨城県にあるのは？
	この地図記号は何を表す？ 
	十勝平野では毎年違う作物を作る（ ）が行われている
	琵琶湖から流れる（ ）川は、滋賀県では瀬田川、京都では宇治川と呼ばれる
	九州でのりの養殖で有名なのは？
	陶磁器の生産がさかんな九州の三都市
	高原野菜の栽培がさかんなのは長野県（ ）で（ ）の山ろくにある
	世界で最も長いつり橋は？
	名古屋と新大阪を結ぶ高速道路は？
	茶の栽培がさかんなのは（ ）で、（ ）川の下流にあります
	中部地方は日本海側の（ ）地方、内陸の（ ）、太平洋側の（ ）に分けられる
	渥美半島には（ ）用水がひかれ、（ ）菊が作られている
	東北新幹線と山形新幹線の分岐駅は（ ）で、山形新幹線の終点は（ ）である
	チューリップの栽培がさかんなのは何県？
	兵庫県にある世界遺産を何という？
	日本アルプスを北から順番に言うと？
	かつて二番目に大きい湖で、現在は干拓されているこの場所を何というか？
	北九州工業地帯では100年以上前に（ ）がつくられ、鉄鋼業が盛んになった
	熊本県の（ ）ではいづさがつくられています
	青森県と秋田県の県境にある（ ）山地は（ ）の原生林で知られている
	（ ）平野では堤防で囲まれた（ ）地帯が見られる
	太平洋側の暖流とは（ ）海流で、寒流とは（ ）海流である
	岩手県の伝統工芸品は（ ）で、青森県では（ ）が有名である
	北海道で製紙パルプは（ ）・（ ）・釧路が有名である
	地図において高さを表す線を何という？
	東京-名古屋を結ぶ高速は2つあり、太平洋側を（ ）高速道路、内陸を（ ）自動車道という
	日本で最も長い高速道路は？またそれは東京と（ ）を結んでいる
	東京を中心に作られた高速道路は（ ）自動車道・（ ）自動車道・（ ）自動車道・（ ）高速道路である

	新大阪と東京を結ぶ新幹線を何という？
	仙台は古くから栄えた城下町で（ ）と呼ばれる
	大阪府の門真では（ ）の生産がさかんです
	丹後半島のつけねには日本三景の（ ）がある
	和歌山で発達している工業は？
	群馬県の（ ）ではキャベツなどを栽培する（ ）農業がさかんである
	リンゴの栽培が盛んなのは青森県の（ ）平野である
	沖合漁業の基地で利根川の河口に位置する港は？
	三陸海岸沖には寒流と暖流がぶつかる（ ）ができる
	埼玉県（ ）のセメントや群馬県（ ）の自動車などが有名である
	筑後川の別名は？
	北海道では 2005 年（ ）が世界遺産に登録された
	瀬戸内海で最大の島は（ ）という
	真珠の養殖で有名なのは？
	宮城県では（ ）市の（ ）が有名である
	東北新幹線と上越・長野新幹線の分岐点は（ ）駅である
	利根川の下流では（ ）米が作られている
	中国地方で石油化学が有名なのは（ ）や（ ）
	らっかせいの生産が日本一の県は？
	川崎は（ ）や（ ）がさかんである
	米の主な生産地は（ ）平野や（ ）盆地である
	（ ）県の（ ）では全国のトイレットペーパーの3分の1を生産している
	1988年北海道と本州をつなぐ、鉄道のトンネルは？
	（ ）県の（ ）港は遠洋漁業の基地になっている
	（ ）県の天童市では（ ）の生産がさかんである
	（ ）県の四日市は（ ）がある
	ウナギの養殖が有名なのは（ ）県の（ ）湖
	カルスト地形で有名なのは山口県の？
	宇宙ロケットの発射基地ある島
	宮城県には日本三景の一つ（ ）がある
	京都の伝統工芸品は（3つ）
	三重県で石油化学が有名なのは？
	三大干拓地として有名なのは岡山県の（ ）

	志摩半島の英虞湾では（ ）の養殖が有名です
	滋賀県の伝統工芸品は？
	石油の生産を県別にみると、1位は（ ）県である
	長野県の（ ）・（ ）では精密機械工業が発達している
	東北新幹線と秋田新幹線の分岐駅は（ ）である
	陶磁器が有名なのは愛知県の（ ）や岐阜県の（ ）
	日本で最も深い湖は（ ）県の（ ）である
	日本一の降水量を誇るのは？何県何市？
	日本初の核燃料再処理工場が建設されたのは（ ）県（ ）
	米の生産が盛んなのは山形県（ ）平野、宮城県（ ）平野などである
	本州四国連絡橋は（ ）－坂出、（ ）－鳴門、（ ）－今治がある
	鹿児島県には（ ）の噴火による火山灰が積もった（ ）台地がある
	市の数が日本一の県は？
	酪農やパイロットファームで有名なのは（ ）である
	タオルが有名なのは愛媛県の（ ）
	中部地方は水力発電が多く、その代表は、富山県（ ）ダムである
	日本で国土を測量し、地図を発行しているのは（ ）である
	この地図記号は何を表す？ 
	上越新幹線と長野新幹線の分岐点は（ ）駅である
	ブドウやももが栽培されているのは（ ）盆地です
	中国地方でかきの養殖が有名なのは？
	中国地方で造船業が盛んなのは坂出と（ ）
	日本三景の一つ宮島があるのは（ ）神社
	広島にある（ ）は、1996年に世界遺産に登録されている
	千葉県東部の単調な海岸線は砂浜海岸の（ ）である
	石川県（ ）市には日本三名園の一つ（ ）がある
	大和郡山では（ ）の養殖が有名です
	日本海有数の水揚げ港は？
	東京、川崎、横浜を中心とした工業地帯を何という？
	熊本には三大急流のひとつ、（ ）が流れている
	岩手県で有数の漁港は（ ）港で、宮城県では（ ）港である
	豊田市は自動車関連企業が集まっているので、（ ）町と呼ばれる
	日本初の地熱発電所が建設されたのは（ ）県（ ）


	九州と本州の間の海峡を何という？
	栃木・群馬・埼玉にまたがる工業地域を何という？
	関東平野には赤土と呼ばれる（ ）層でおおわれた（ ）などの台地がある
	大阪湾を埋め立てて作られた空港は？
	東京―新潟を結ぶ高速道路を（ ）自動車道、新幹線を（ ）新幹線という
	秋田県の東北三大祭りは（ ）である
	浜松で生産がさかんなのは（ ）や（ ）です
	石川県の伝統工芸品は？（3つ）
	世界遺産に登録されたすぎの有名な島
	東北地方の中央にある日本一長い山脈は？
	セメントの生産が盛んなのは（山口県2か所）？
	京都の（ ）市ではお茶が有名です
	中部国際空港は（ ）湾の一部を埋め立てて建設された
	中国・四国地方で日本有数のみかんの産地はどこ？
	世界最大級のカルデラとして有名
	（ ）海岸で知られる（ ）湾は、原子力発電所がたくさんある
	釧路湿原は、1980年に日本で初めてある条約の登録地になった。ある条約とは？
	過密や大気汚染、交通渋滞（ ）現象などの問題を（ ）問題という
	都心部の人口が減り、校外の人口が増えることを何という？
	筑紫平野には（ ）と呼ばれる水路がある
	1月ごろ流氷が流れ着くのは（ ）海です
	北海道の先住民を何という？
	この地図記号は何を表す？ 
	仙台湾では（ ）、陸奥湾では（ ）の養殖がさかんである
	和歌山県ではみかん、（ ）と（ ）の生産量が日本一です
	東北地方では全国の米の（ ）分の（ ）が生産されている
	実際の長さは7.5 km、縮尺2万5千分の1、地図上の長さは何 cm？
	地図上で5 cm、縮尺5万分の1、実際の長さは？何 km？
	東京では（ ）業がさかんである
	地図上の面積が100 cm ² 、縮尺5万分の1、実際の面積は何 km ² ？
	広島に原爆が落とされたのは何年何月何日？


模範解答

氏名

語句	説明
偕楽園	日本三名園の一つで茨城県にあるのは？
老人ホーム・図書館 ・博物館	この地図記号は何を表す？   
輪作	十勝平野では毎年違う作物を作る（ ）が行われている
淀川	琵琶湖から流れる（ ）川は、滋賀県では瀬田川、京都では宇治川と呼ばれる
有明海	九州でのりの養殖で有名なのは？
有田町・伊万里・唐津	陶磁器の生産がさかんな九州の三都市
野辺山原・ハケ岳	高原野菜の栽培がさかんなのは長野県（ ）で（ ）の山ろくにある
明石海峡大橋	世界で最も長いつり橋は？
名神高速道路	名古屋と新大阪を結ぶ高速道路は？
牧ノ原・大井川	茶の栽培がさかんなのは（ ）で、（ ）川の下流にあります
北陸・中央高地・東海	中部地方は日本海側の（ ）地方、内陸の（ ）、太平洋側の（ ）に分けられる
豊川用水・電照	渥美半島には（ ）用水がひかれ、（ ）菊が作られている
福島・新庄	東北新幹線と山形新幹線の分岐駅は（ ）で、山形新幹線の終点は（ ）である
富山県	チューリップの栽培がさかんなのは何県？
姫路城	兵庫県にある世界遺産を何という？
飛騨・木曾・赤石	日本アルプスを北から順番に言うと？
八郎潟	かつて二番目に大きい湖で、現在は干拓されているこの場所を何というか？
八幡製鉄所	北九州工業地帯では100年以上前に（ ）がつくられ、鉄鋼業が盛んになった
八代平野	熊本県の（ ）ではいぐさがつくられています
白神・ぶな	青森県と秋田県の県境にある（ ）山地は（ ）の原生林で知られている
濃尾・輪中	（ ）平野では堤防で囲まれた（ ）地帯が見られる
日本・千島	太平洋側の暖流とは（ ）海流で、寒流とは（ ）海流である
南部鉄器・津軽塗	岩手県の伝統工芸品は（ ）で、青森県では（ ）が有名である
苫小牧・旭川	北海道で製紙パルプは（ ）・（ ）・釧路が有名である
等高線	地図において高さを表す線を何という？
東名・中央	東京一名古屋を結ぶ高速は2つあり、太平洋側を（ ）高速道路、内陸を（ ）自動車道という
東北自動車道・青森	日本で最も長い高速道路は？またそれは東京と（ ）を結んでいる
東北・関越・中央・	東京を中心に作られた高速道路は（ ）自動車道・（ ）自動車道・（ ）自動車道・

東名	() 高速道路である
東海道新幹線	新大阪と東京を結ぶ新幹線を何という？
杜の都	仙台は古くから栄えた城下町で() と呼ばれる
電気機器	大阪府の門真では() の生産がさかんです
天橋立	丹後半島のつけねには日本三景の() がある
鉄鋼業	和歌山で発達している工業は？
孺恋村・高冷地	群馬県の() ではキャベツなどを栽培する() 農業がさかんである
津軽	リンゴの栽培が盛んなのは青森県の() 平野である
銚子(港)	沖合漁業の基地で利根川の河口に位置する港は？
潮目	三陸海岸沖には寒流と暖流がぶつかる() ができる
秩父・太田	埼玉県() のセメントや群馬県() の自動車などが有名である
筑紫次郎	筑後川の別名は？
知床	北海道では 2005 年() が世界遺産に登録された
淡路島	瀬戸内海で最大の島は() という
大村湾	真珠の養殖で有名なのは？
大崎・こい丸	宮城県では() 市の() が有名である
大宮	東北新幹線と上越・長野新幹線の分岐点は() 駅である
早場	利根川の下流では() 米が作られている
倉敷・周南	中国地方で石油化学が有名なのは() や()
千葉県	らっかせいの生産が日本一の県は？
石油化学・鉄鋼	川崎は() や() がさかんである
石狩・上川	米の主な生産地は() 平野や() 盆地である
静岡・富士	() 県の() では全国のトイレットペーパーの3分の1を生産している
青函トンネル	1988年北海道と本州をつなぐ、鉄道のトンネルは？
静岡・焼津	() 県の() 港は遠洋漁業の基地になっている
山形・将棋の駒	() 県の天童市では() の生産がさかんである
三重・石油化学コンビナート	() 県の四日市は() がある
静岡・浜名	ウナギの養殖が有名なのは() 県の() 湖
秋吉台	カルスト地形で有名なのは山口県の？
種子島	宇宙ロケットの発射基地ある島
松島	宮城県には日本三景の一つ() がある
西陣織・京友禅・清水焼	京都の伝統工芸品は(3つ)
四日市(市)	三重県で石油化学が有名なのは？

児島湾	三大干拓地として有名なのは岡山県の（ ）
真珠	志摩半島の英虞湾では（ ）の養殖が有名です
信楽焼	滋賀県の伝統工芸品は？
新潟	石油の生産を県別にみると、1位は（ ）県である
諏訪・岡谷	長野県の（ ）・（ ）では精密機械工業が発達している
盛岡	東北新幹線と秋田新幹線の分岐駅は（ ）である
瀬戸・多治見	陶磁器が有名なのは愛知県の（ ）や岐阜県の（ ）
秋田県・田沢湖	日本で最も深い湖は（ ）県の（ ）である
三重県尾鷲市	日本一の降水量を誇るのは？何県何市？
青森・六ヶ所村	日本初の核燃料再処理工場が建設されたのは（ ）県（ ）
庄内・仙台	米の生産が盛んなのは山形県（ ）平野、宮城県（ ）平野などである
児島・神戸・尾道	本州四国連絡橋は（ ）-坂出、（ ）-鳴門、（ ）-今治がある
桜島・シラス	鹿児島県には（ ）の噴火による火山灰が積もった（ ）台地がある
埼玉県	市の数が日本一の県は？
根釧台地	酪農やパイロットファームで有名なのは（ ）である
今治	タオルが有名なのは愛媛県の（ ）
黒部	中部地方は水力発電が多く、その代表は、富山県（ ）ダムである
国土地理院	日本で国土を測量し、地図を発行しているのは（ ）である
高等学校・工場 ・消防署	この地図記号は何を表す？ 
高崎	上越新幹線と長野新幹線の分岐点は（ ）駅である
甲府	ブドウやももが栽培されているのは（ ）盆地です
広島湾	中国地方でかきの養殖が有名なのは？
呉	中国地方で造船業が盛んなのは坂出と（ ）
厳島	日本三景の一つ宮島があるのは（ ）神社
原爆ドーム	広島にある（ ）は、1996年に世界遺産に登録されている
九十九里浜	千葉県東部の単調な海岸線は砂浜海岸の（ ）である
金沢・兼六園	石川県（ ）市には日本三名園の一つ（ ）がある
金魚	大和郡山では（ ）の養殖が有名です
境港	日本海有数の水揚げ港は？
京浜工業地帯	東京、川崎、横浜を中心とした工業地帯を何という？
球磨川	熊本には三大急流のひとつ、（ ）が流れている
宮古・石巻	岩手県で有数の漁港は（ ）港で、宮城県では（ ）港である
企業城下	豊田市は自動車関連企業が集まっているので、（ ）町と呼ばれる

岩手県・松川	日本初の地熱発電所が建設されたのは（ ）県（ ）
関門海峡	九州と本州の間の海峡を何という？
関東内陸工業地域	栃木・群馬・埼玉にまたがる工業地域を何という？
関東ローム・武蔵野	関東平野には赤土と呼ばれる（ ）層でおおわれた（ ）などの台地がある
関西国際空港	大阪湾を埋め立てて作られた空港は？
関越・上越	東京―新潟を結ぶ高速道路を（ ）自動車道、新幹線を（ ）新幹線という
竿燈（竿灯）	秋田県の東北三大祭りは（ ）である
楽器・オートバイ	浜松で生産がさかんなのは（ ）や（ ）です
加賀友禅・九谷焼・輪島塗	石川県の伝統工芸品は？（3つ）
屋久島	世界遺産に登録されたすぎの有名な島
奥羽山脈	東北地方の中央にある日本一長い山脈は？
宇部・山陽小野田	セメントの生産が盛んなのは（山口県2か所）？
宇治	京都の（ ）市ではお茶が有名です
伊勢	中部国際空港は（ ）湾の一部を埋め立てて建設された
愛媛県	中国・四国地方で日本有数のみかんの産地はどこ？
阿蘇山	世界最大級のカルデラとして有名
リアス（式）・若狭	（ ）海岸で知られる（ ）湾は、原子力発電所がたくさんある
ラムサール条約	釧路湿原は、1980年に日本で初めてある条約の登録地になった。ある条約とは？
ヒートアイランド・都市	過密や大気汚染、交通渋滞（ ）現象などの問題を（ ）問題という
ドーナツ化現象	都心部の人口が減り、校外の人口が増えることを何という？
クレーク	筑紫平野には（ ）と呼ばれる水路がある
オホーツク	1月ごろ流氷が流れ着くのは（ ）海です
アイヌ	北海道の先住民を何という？
くわ畑・果樹園 ・茶畑	この地図記号は何を表す？ 
かき、ほたて	仙台湾では（ ）、陸奥湾では（ ）の養殖がさかんである
かき、うめ	和歌山県ではみかん、（ ）と（ ）の生産量が日本一です
4・1	東北地方では全国の米の（ ）分の（ ）が生産されている
30cm	実際の長さは7.5km、縮尺2万5千分の1、地図上の長さは何cm？
2.5km	地図上で5cm、縮尺5万分の1、実際の長さは？何km？
（出版）印刷	東京では（ ）業がさかんである
25km ²	地図上の面積が100cm ² 、縮尺5万分の1、実際の面積は何km ² ？
1945年8月6日	広島に原爆が落とされたのは何年何月何日？